

ĐỀ 11	<p align="center">ĐỀ KIỂM TRA HỌC KỲ 1</p> <p align="center">MÔN: TOÁN LỚP 4</p> <p align="center">Thời gian: 40 phút</p>
--------------	---

Bài 1. (1 điểm) Điền vào chỗ chấm :

VIẾT SỐ	ĐỌC SỐ
18 001 091
.....	Ba triệu bốn trăm mười nghìn hai trăm linh năm.

Bài 2. (1 điểm) Điền dấu thích hợp vào ô trống :

a) 9999 12037

b) 2m 5cm 25cm

27306 27289

3tạ 2yến 32yến

Bài 3. (2 điểm) Đặt tính rồi tính :

$$528529 + 73946$$

$$947302 - 293764$$

$$678 \times 37$$

$$3168 : 18$$

Bài 4. (1 điểm) Cho các số : 2070 ; 5319 ; 1029 ; 6046.

a) Các số chia hết cho 2 là :

.....

b) Các số chia hết cho 3 là :

.....

c) Các số chia hết cho 9 là :

.....

d) Các số vừa chia hết cho 2 vừa chia hết cho 3 là :

.....

Bài 5. (2 điểm) Khoanh vào chữ đặt trước câu trả lời đúng :

a) Số thích hợp điền vào chỗ chấm để $5\text{m}^2 \ 3\text{dm}^2 = \dots\dots\dots \text{dm}^2$ là :

- A. 53 B. 503 C. 530 D. 5300

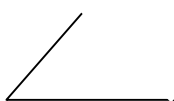
b) Giá trị biểu thức $8160 : 4 + 6$ là :

- A. 240 B. 246 C. 816 D. 2046

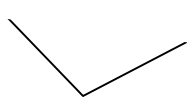
c) Trong các góc dưới đây, góc nhọn là :




A



B



C



D

- A. Góc đỉnh A B. Góc đỉnh B

- C. Góc đỉnh C D. Góc đỉnh D

d) Cho hình chữ nhật ABCD (như hình vẽ bên).

Cạnh song song với cạnh AB là :

- A. Cạnh AD B. Cạnh BC
C. Cạnh CD D. Cạnh BD



Bài 6. (2 điểm) Một mảnh đất hình chữ nhật có chiều dài 158m, chiều rộng bằng nửa chiều dài. Tính chu vi mảnh đất đó.

Bài giải

Bài 7. (1 điểm) Một hình chữ nhật có chu vi là 124m, nếu chiều dài tăng thêm 4m thì diện tích hình đó tăng thêm 104m^2 . Tính diện tích hình chữ nhật ban đầu.